

Kartkówka nr 11
(-- kl. V --)

Imię:.....

Nazwisko:.....

Suma:.....

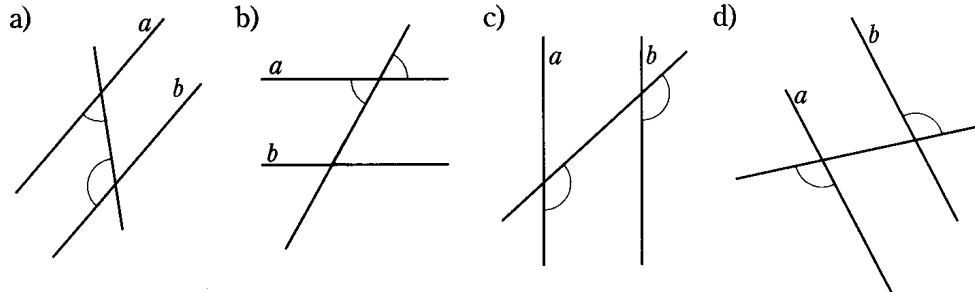
Data:.....

Grupa:

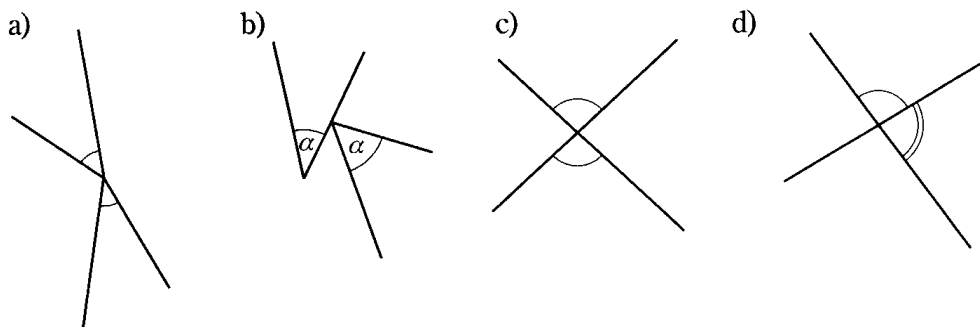
Ocena:.....

.....
podpis nauczyciela

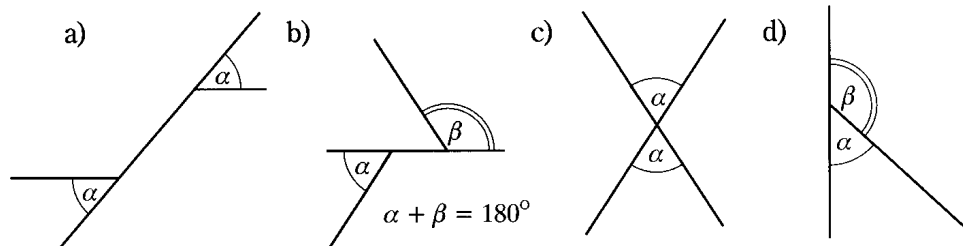
1. Kąty naprzemianległe to:



2. Kąty wierzchołkowe to:



3. Kąty przyległe to:



4. Narysuj prostą równoległą do prostej l , oddaloną od prostej l o 3cm.

