

Kartkówka nr 10
(-- kl. VI --)

Imię:.....

Nazwisko:.....

Suma:.....

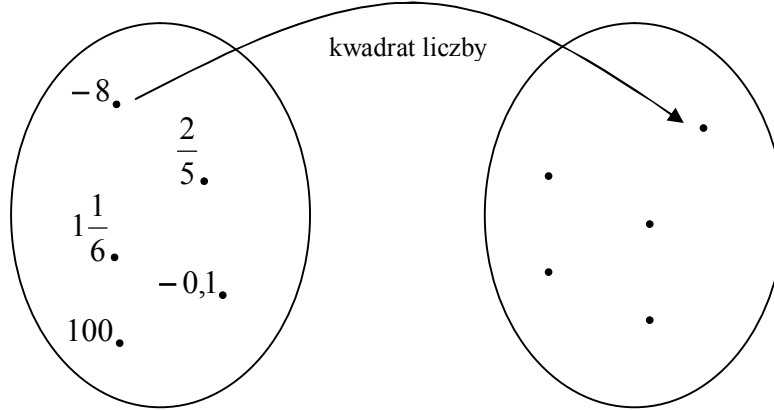
Data:.....

Grupa:

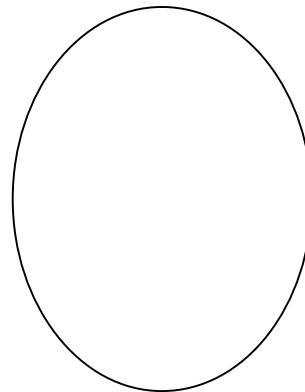

Ocena:.....

.....
podpis nauczyciela

1. Uzupełnij graf, wpisując odpowiednie liczby.



2. Parze liczb $(a; b)$ przyporządkowujemy iloraz $a : b$ tych liczb. Przedstaw to przyporządkowanie za pomocą grafu, wiedząc, że jego dziedziną jest następujący zbiór: $\{(-9; 27), (1\frac{5}{8}; 1), (0; 1\ 000), (140; 14), (1250; 50)\}$.



3. Co to jest *funkcja*?

.....

.....

.....