

Kartkówka nr 11
(-- kl. VI --)

Imię:.....

Nazwisko:.....

Suma:.....

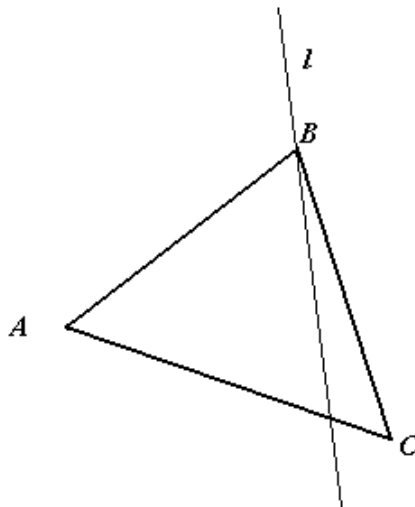
Data:.....

Grupa:

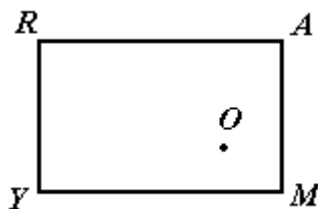
Ocena:.....

.....
podpis nauczyciela

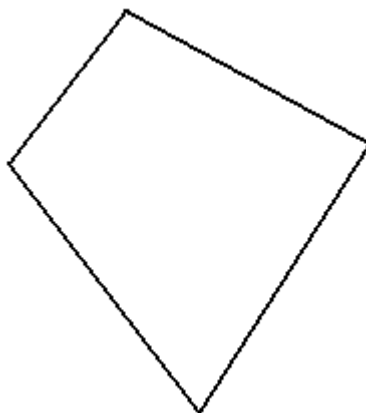
1. Znajdź obraz trójkąta ABC w symetrii osiowej względem prostej l .



2. Znajdź obraz prostokąta $RAMY$ w symetrii środkowej względem punktu O .



3. Wyznacz konstrukcyjnie środki boków danej figury.



4. Zaznacz symbole znaków zodiaku, które mają dwie osie symetrii.

