

Sprawdzian nr 1

(-- kl. V --)

Imię:.....

Nazwisko:.....

Suma:.....

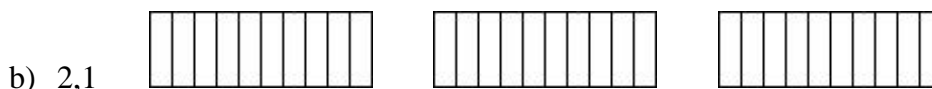
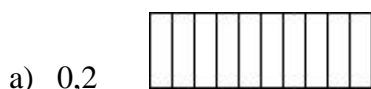
Ocena:.....

Data:.....

Grupa: B

.....
podpis nauczyciela

1. Zamaluj następujące części prostokątów:



2. W miejsce kropek wpisz taką cyfrę, aby było prawdą, że:

a) $3, \dots 9 < 3,59$

b) $0,9 \dots 5 > 0,9915$

c) $321,12312300 \dots = 321,123123$

3. Podkreśl trzy spośród pięciu ułamków dziesiętnych, których suma równa się 2:

a) 0,00 0,10 0,9 0,25 1,75

b) 0,33 0,3 1,00 0,67 0,25

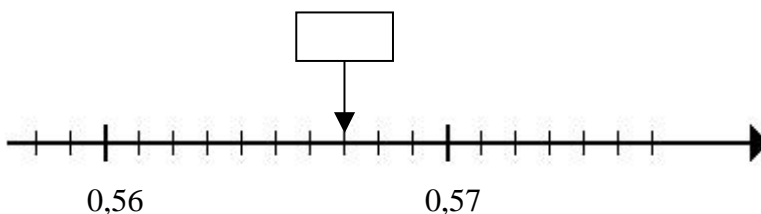
4. Długość ciała pewnego wieloryba wynosi 9,72 m. Wyraż długość ciała tego wieloryba w centymetrach.

.....
.....
.....
.....

5. Rozwiąż równanie: $5 - x = 2,543$

.....
.....
.....

6. Wpisz odpowiedni ułamek dziesiętny:



7. Podziel pięć i dwie dziesiąte przez 1000.

.....
.....
.....